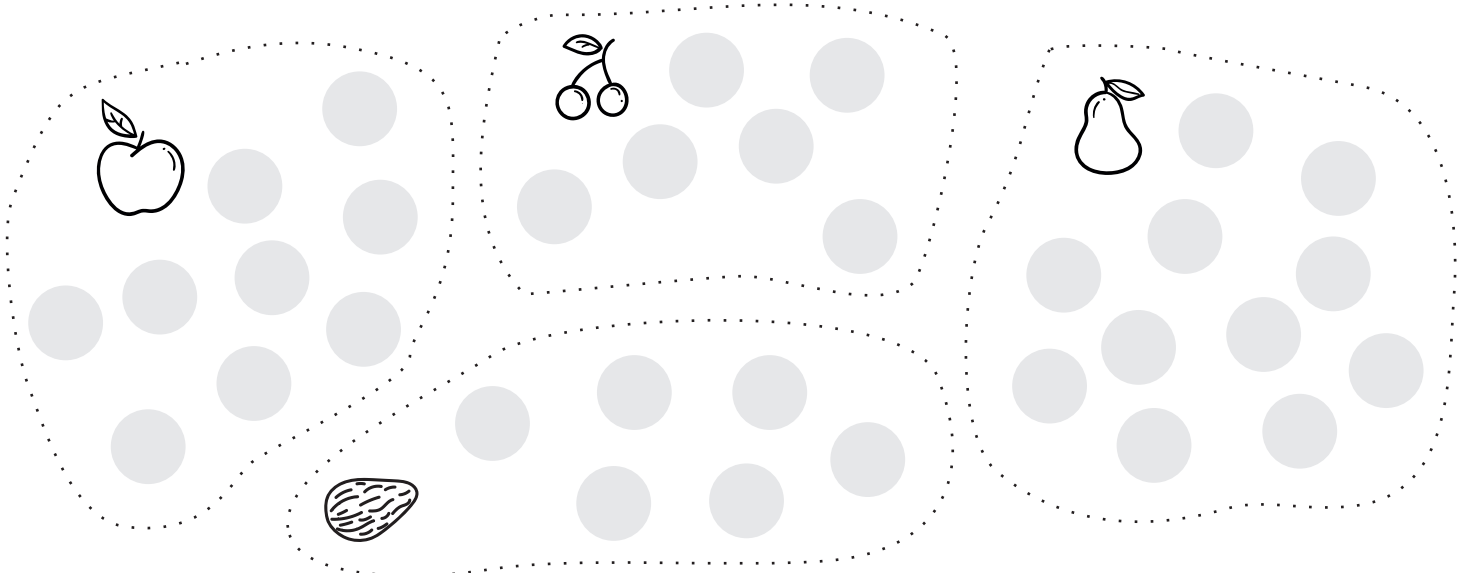




JMÉNO: _____

V Americe si sadaři objednávají služby včelařů. Včelaři jim do sadů vozí na kamionech úly se včelami. Tak dosáhnou sadaři co nejlepšího opylení stromů v sadech.

Včelař Jack má 18 úlů. Včelař John má 21 úlů. Jack má rozvézt 5 úlů do jabloňového sadu a 7 úlů do třešňového sadu. John má rozvézt 6 úlů do mandloňového sadu a 8 úlů do hrušňového sadu. Spočítej kolik úlů každému z nich zbyde a bude jim moct nabídnout dalším sadařům. Kolik úlů jim zbyde dohromady?

Červenou pastelkou obtáhni mandloňový sad a vybarvi potřebný počet úlů na správném kamionu. Modrou pastelkou obtáhni hrušňový sad a vybarvi potřebný počet úlů na správném kamionu. Žlutou pastelkou obtáhni třešňový sad a vybarvi potřebný počet úlů na správném kamionu. Zelenou pastelkou obtáhni jabloňový sad a vybarvi potřebný počet úlů na správném kamionu.



JACKOVI ZBYDE ÚLŮ. JOHNHOVI ZBYDE ÚLŮ.

DOHROMADY JOHNHOVI A JACKOVI ZBYDE..... ÚLŮ