



JMÉNO: _____


Procvič si násobení a vypočítej, kolik pylu včela během opylování nanosí.
Puntíky pod každou rostlinou vyjadřují množství pylu. Nediv se, že jsou tu i příklady s odčítáním.
Včelka nejen že pyl sbírá, ale některé kuličky pylu ze včelky zase spadnou.
Výsledek zapiš do buňky na konci příkladu.




$$3 \times \text{flower} + 8 \times \text{pollen} = \text{hexagon}$$




$$5 \times \text{tulip} + 9 \times \text{flower} = \text{hexagon}$$



$$4 \times \text{pollen} + 2 \times \text{flower} = \text{hexagon}$$



$$8 \times \text{pollen} - 7 \times \text{flower} = \text{hexagon}$$



$$6 \times \text{tulip} - 4 \times \text{flower} = \text{hexagon}$$

$$9 \times \text{flower} - 8 \times \text{flower} = \text{hexagon}$$

